

المدفء : جد قيمة الرقم المحدد :1- قيمة رقم الآحاد في هذا العدد **361** هي :

أ- 10 ب- 60 ج- 30 د- 1

2- قيمة الرقم الذي تحته خط **897** هي :

أ- 80 ب- 90 ج- 9 د- 800

3- قيمة الرقم الذي تحته خط **443** هي :

أ- 400 ب- 4 ج- 40 د- 100

4- قيمة رقم المئات في هذا العدد **600** هي :

أ- 60 ب- 600 ج- 0 د- 6

5- ما قيمة الرقم 7 في الأعداد الآتية :

$70 = 71$

$\underline{\hspace{2cm}} = 705$


$\underline{\hspace{2cm}} = 17$

$\underline{\hspace{2cm}} = 7$

$\underline{\hspace{2cm}} = 178$

$\underline{\hspace{2cm}} = 700$

$\underline{\hspace{2cm}} = 007$



س 6) أعمل المتواليات :

أ) 153 , 154 , 155 -----,----- ,----- ,-----,

ب) 100 , 200 , 300,----- ,----- ,----- ,-----,

ج) 400 , 500 , 600,----- ,----- ,----- ,-----

د) 121 , 231 , 341,----- ,----- ,----- ,-----

هـ) 225 , 325 , 425,----- ,----- ,----- ,-----

و) 541 , 551 , 561, ----- ,----- ,-----

ز)----- ,----- ,----- , 400, 500 , 600

ح)-----,-----,-----, 346, 446 ----- ,-----

ط) ----- ,-----,177, 178 -----,-----,

-----, ----- ,----- ,----- ,140, 150

ي)----- ,----- ,-----, 198 , -----, 200



د)

س7 (معطى العدد الاتي 254

ارسم العدد المعطى



رقم آحاده : -----

رقم عشراته : -----

رقم مئاته : -----

العدد المعطى هو : أ- أأادي المنزلة ب- ثلاثي المنزلة ت- ثنائي المنزلة

العدد المعطى هو : زوجي أم فردي

العدد المعطى بالكلمات : -----

قيمة منزلة المئات في العدد المعطى = _____

العدد السابق للعدد المعطى : هو _____

العدد التالي للعدد المعطى هو : -----

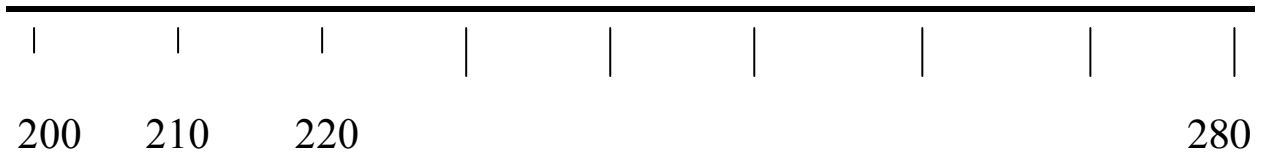
إذا أضفنا العدد 10 الى العدد المعطى فان العدد الجديد يكون =-----

إذا أضفنا الى العدد المعطى 100 فان العدد الجديد =-----

إذا طرحنا من العدد المعطى 10 فان العدد الحاصل يكون :-----

إذا طرحنا من العدد المعطى 100 فان العدد الحاصل هو =-----

أكتب موقع العدد المعطى على المستقيم :



س 8) أكتب > أو < أو =

700----- 300

176----- 354

900----- 800

437----- 430

111-----101

270----- 297

47----- 147

605-----600

215----- 215

س 9) أخط بدائرة العدد الأكبر :

ث 959

ت- 589

ب-895

أ- 598

ث-500

ت- 405

ب-504

أ-540

س 10) أخط العدد الأصغر :

ث-433

ت- 231

ب- 332

أ- 132

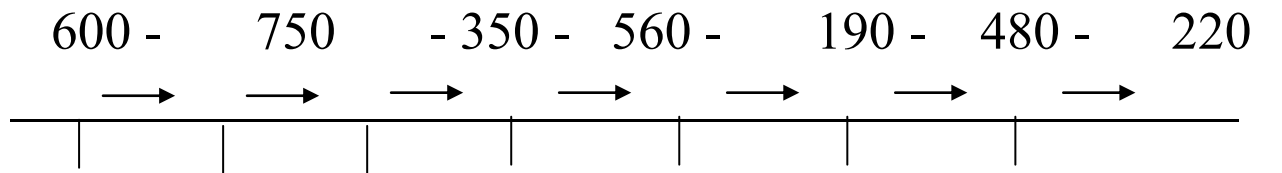
ث- 607

ت 647

ب- 674

أ- 670

س 11 رتب الأعداد الآتية ترتيبا صحيحا من الأصغر الى الأكبر



أكمل العدد السابق : 1-

-----679

----- 272

----- 157

----- 500

----- 590

-----800

أكمل العدد التالي : 1+

467-----

184-----

354----

120-----

707-----

400-----

حل المعادلات :

$$200 + \text{---} = 500$$

$$200 + \text{---} = 600$$

$$\text{----} - 300 = 600$$

$$\text{----} + 300 = 400$$

$$350 + \text{----} = 450$$

$$\text{-----} - 450 = 450$$

$$800 - \text{---} = 200$$

$$\text{----} - 600 = 100$$

1) اكتب الأعداد الآتية بالكلمات

_____ * مئة وتسع وخمسون	_____ 182
_____ * أربع مئة وثمانية	_____ 253
_____ * ثمان مئة وعشرة	_____ 700
_____ * ثلاث مئة وثلاثة عشر	_____ 999

* اكتب العدد السابق :

_____ 121
 _____ 230
 _____ 405
 _____ 619

2) * اكتب العدد التالي :

834 _____
 500 _____
 799 _____
 809 _____

3) اكتب < أو > :

303 _____ 330 412 _____ 400 135 _____ 153

177 _____ 771 209 _____ 219 871 _____ 817

4) أكمل المتواليات

100 , 200 , _____ , _____ , _____ , _____ , _____

158, 159, _____ , _____ , _____ , _____ , _____

496, 497, _____ , _____ , _____ , _____ , _____

803, 802 , _____ , _____ , _____ , _____ , _____

_____ , _____ , _____ , 335 , 334, _____ , _____

(5) حل التمارين الآتية

$$\begin{array}{r} 819 \\ - 109 \\ \hline \end{array} \quad + \quad \begin{array}{r} 256 \\ + 625 \\ \hline \end{array} \quad + \quad \begin{array}{r} 626 \\ + 54 \\ \hline \end{array} \quad + \quad \begin{array}{r} 267 \\ + 8 \\ \hline \end{array} \quad + \quad \begin{array}{r} 157 \\ + 42 \\ \hline \end{array}$$

$$\begin{array}{r} - 400 \\ 367 \\ \hline \end{array} \quad + \quad \begin{array}{r} 516 \\ + 99 \\ \hline \end{array} \quad - \quad \begin{array}{r} 655 \\ - 49 \\ \hline \end{array} \quad + \quad \begin{array}{r} 215 \\ + 9 \\ \hline \end{array} \quad - \quad \begin{array}{r} 125 \\ - 43 \\ \hline \end{array}$$

انسخ التمارين الآتية عاموديا وحلها

$135 + 7 =$

$650 - 35 =$

7) رتب الاعداد الاتية من الاصغر الى الاكبر

158 , 85 , 205 , 185 , 118 , 180

_____ , _____ , _____ , _____ , _____ , _____

305 , 565 , 515 , 651 , 500 , 315

_____ , _____ , _____ , _____ , _____ , _____

8) حل التمارين الاتية

$3 \times 2 =$

$5 \times 3 =$

$4 \times 4 =$

$10 \times 6 =$

$8 \times 0 =$

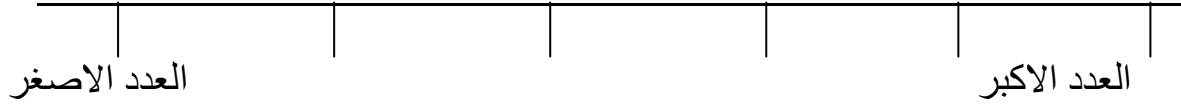
$1 \times 7 =$

$2 \times 9 =$

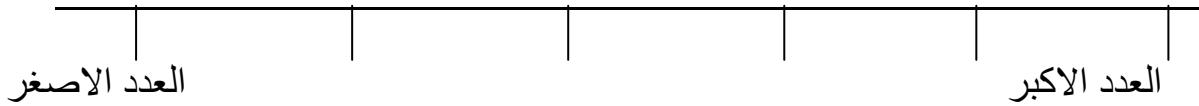
$9 \times 3 =$

*رتب الاعداد من الاصغر الى الاكبر

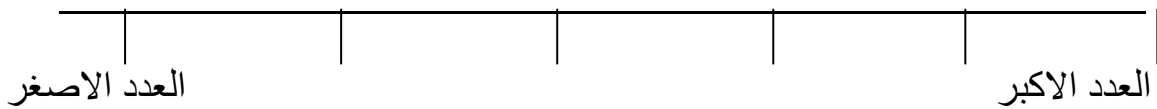
560 - 700 - 430 - 600 - 132 - 220



102 - 510 - 130 - 630 - 418 - 256



180 - 700 - 250 - 455 - 65 - 101



470 - 800 - 270 - 340 - 95 - 195

