

# مدرسة الصديق الابتدائية

امتحان حساب

الصفوف الثانية

الاسم :

\_\_\_\_\_

المعلمة :

\_\_\_\_\_


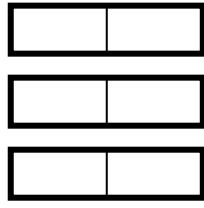
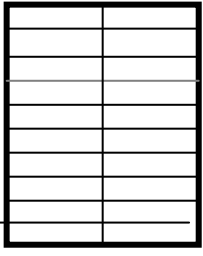
## صيف 2014

التقييم :



عزيزي الطالب ضع اشارة ✕ مُربّع الاجابة الصحيحة

1) اختر اسم العدد الملائم للرسم



ت - 15

ت - 135

335

أ - 531

2- العدد ثلاث مائة وخمسة نكتبه :

503

305

350

105

3- نكتب العدد 211 بالكلمات :

مائتان وأحد عشر

مائة وواحد وعشرون

مائتان واثنان عشر

مائتان وواحد

4- هيّا نكتب الأعداد الآتية بالكلمات :

\_\_\_\_\_ : 469

\_\_\_\_\_ : 123

5- العدد السابق ل 300 :

301

299

310

399

6- العدد التالي ل 287 :

320

230

288

219

7) العدد الناقص الذي يكمل المتوالية هو :

أ) 442 ، 443 ، \_\_\_\_\_ ، 445

444

246

455

435

العدد الذي يكمل المتوالية هو :

ب) \_\_\_\_\_ ، 130 ، 240 ، 350

119

20

220

100

8- ضع اشارة ✕ داخل مربع العدد الاصغر :

406

599

749

723

9- ضع اشارة ✕ داخل مربع العدد الأكبر :

215

502

520

250

10- العدد - 207 هو عدد :

أحادي المنزلة     ثلاثي المنزلة     ثنائي المنزلة

11- قيمة الرقم الذي تحته خط 379 هو :

700     70     7     17

12- قيمة الرقم الذي تحته خط 265 هو :

2     20     200     60

13- أحط منزلة العشرات بدائرة :

66 - 17 - 8    - 189 - 408

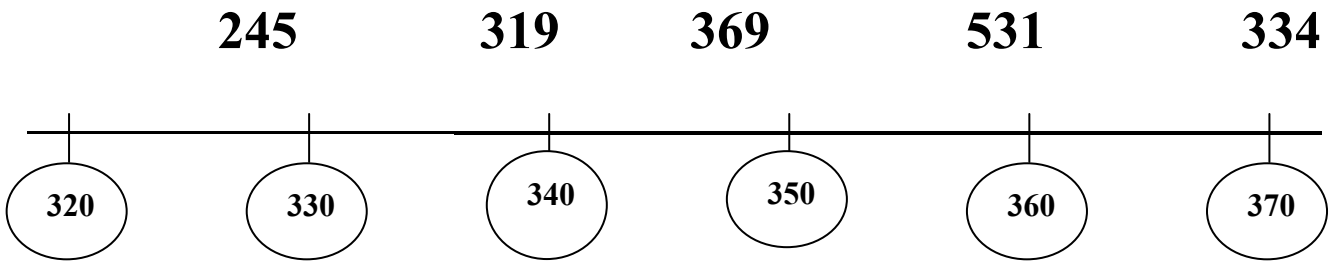
14- ضع خطأً تحت منزلة الآحاد

143 - 555 - 254    - 76 - 200

15- أضق عددا يلائم مجموعة الاعداد الاتية :

----- ،	541	203	385	227
---------	-----	-----	-----	-----

16- انسخ الاعداد الملائمة فقط داخل المستقيم :



18) حل التمارين الاتية

$$20 + (20 : 5) + 50 =$$

ب)  $40 - (5 \times 6) + 5 =$

## 19- حل تمارين الجمع والطرح عموديا في الشبكة

$$230+100=$$

$$450 - 100=$$

$$750 - 10=$$


$$836 + 33 =$$

$$745 + 76=$$

$$230 - 113=$$

$$200 + 700 =$$

$$432 - 28=$$



## القسم الثاني

مسائل كلامية :

المسألة الاولى :

اشترت أم أمجد كُتُبًا ب 350 شاقلاً واشترت لوازم مدرسية أيضا بقيمة 150 شاقلاً . كم شاقلا دفعت ام امجد للبائع ؟  
التمرين : \_\_\_\_\_ : الجواب : \_\_\_\_\_

## المسألة الثانية :

كان مع بلال 256 بنورة ملونة . أضاع منها 100 بنورة حمراء .  
كم بنورة بقيت مع بلال ؟  
التمرين : \_\_\_\_\_ : الجواب : \_\_\_\_\_

## المسألة الرابعة :

اشترى محمود 3 قصص لأولاد صفه . ثمن القصة الواحدة 10 شواقل  
كم شاقل ثمن القصص ؟

التمرين : \_\_\_\_\_ : الجواب : \_\_\_\_\_