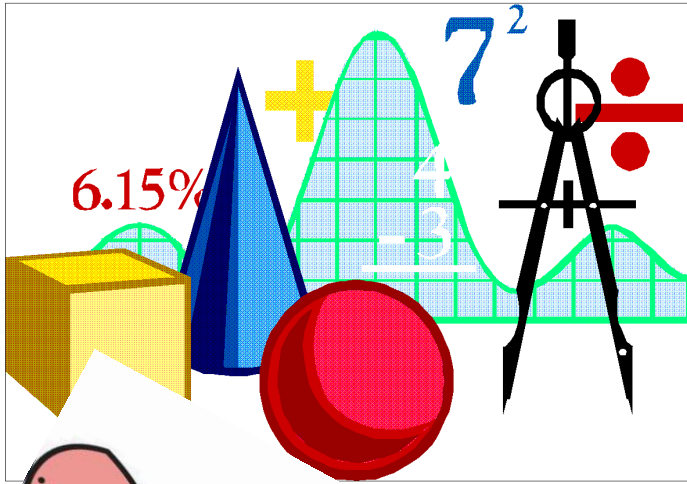


مدرسة الصديق الابتدائية  
امتحان حساب الصفوف الثانية - الفصل الثالث

الاسم: \_\_\_\_\_

السنة : 2010



بالنجاح يا أبطال

## القسم الاول :

### 1- كيف نكتب العدد 510 بالكلمات :

واحد وخمسون

خمسة مئة وواحد

مائة وخمسون

خمسة مئة وعشرة

### 2- العدد ست مائة وثلاث هو :

630

306

603

613

### 3- أكتب بالكلمات

\_\_\_\_\_ : 333

\_\_\_\_\_ : 226

### 4- من هو العدد الاكبر :

792

729

772

297

### 5- من هو العدد الاصغر :

201

204

240

420

6- من هو العدد الذي يسبق 900:

890

899

901

800

7- من العدد الذي يلي 699:

800

710

698

700

8- من هو العدد الناقص الذي يكمل المتوالية:

\_\_\_\_\_ ، 345 ، 346 ، 347 أ)

446

348

344

354

9- من هو العدد الناقص في المتوالية:

316 \_\_\_\_\_ أ) ، 336 ، 346

326

370

327

217

10- اذا استبدلنا رقم العشرات في هذا العدد ( 276 ) برقم 9 فان العدد سوف

سيكبر

سيصغر

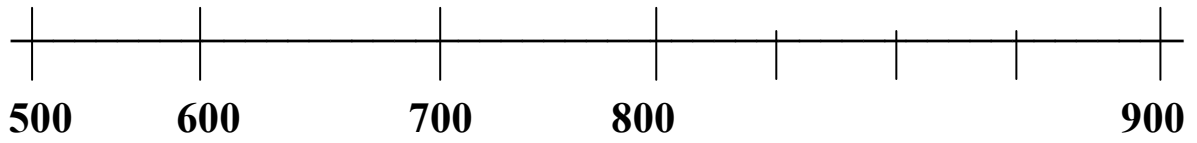
لن تتغير قيمته

11- أمامك العددين 891 و 761

من هو العدد الكبير : \_\_\_\_\_

بكم أكبر : \_\_\_\_\_ التمرين : \_\_\_\_\_

12- ما هي الأعداد التي تقع على الخط الأسود :



801

799

880

698

13- قيمة الرقم 6 في العدد ( 465 ) هي :

16

600

6

60

14- منزلة العشرات في العدد 123 هي : \_\_\_\_\_

15- منزلة المئات في العدد 236 هي : \_\_\_\_\_

16- لون نصف عدد المربعات أكتب التمرين : \_\_\_\_\_



## 71- حل التمارين الآتي

أ)  $450 + 100 = \underline{\hspace{2cm}}$

ب)  $115 + 769 = \underline{\hspace{2cm}}$

ت)  $115 - 10 = \underline{\hspace{2cm}}$

ث)  $730 + 250 = \underline{\hspace{2cm}}$

ج)  $680 - 102 = \underline{\hspace{2cm}}$

ح)  $125 + 100 = \underline{\hspace{2cm}}$

## 18- - حل التمارين الآتية :

$30 - ( 5 \times 4 ) + 4 = \underline{\hspace{2cm}}$

ب]  $6 : 6 + ( 450 + 0 ) = \underline{\hspace{2cm}}$

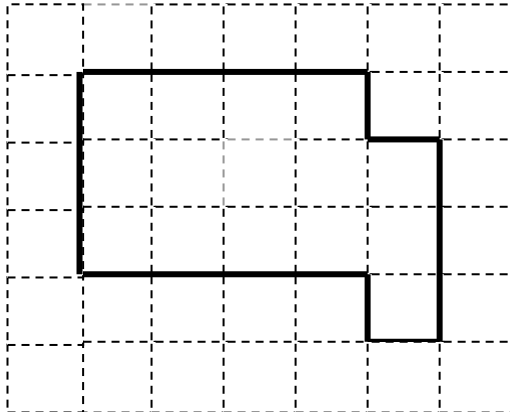
قسم الهندسة :

## 19- اكمل الاعداد الناقصة :

أ) محيط الشكل الملون في الرسم هو : \_\_\_\_\_ سم (سنتيمترات)



ب) مساحة الشكل الملون في الرسم هو \_\_\_\_\_ مربعات



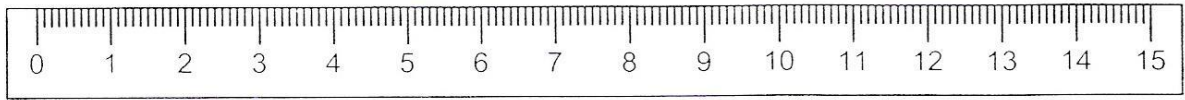
20 : اشر الى الساعة التي تشير الى السادسة والرابع :



21) كم طول قلم الرصاص ؟


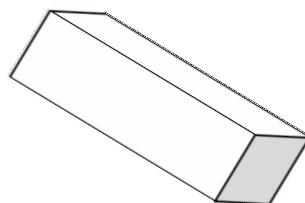
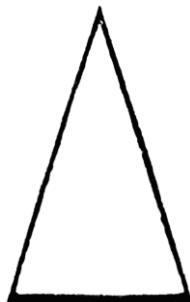
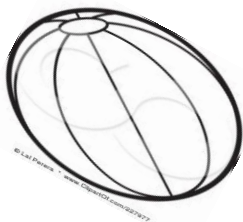
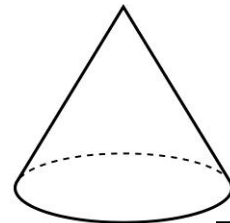

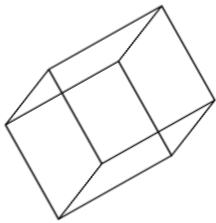


?



□ 11 سم □ 10 سم □ 8 سم □ 9 سم

22- ضع خطأً تحت الاشكال التي تشير الى المجسمات :



## 23- مسائل كلامية :

### المسألة الاولى :

أحضرت المعلمة الى الصف 59 كتابا ، أعطت 23 منها للتلاميذ و 15 كتابا وضعتها في الخزانة، والباقي وضعتها على الطاولة .

كم عدد الكتب التي وضعتها على الطاولة ؟

التمرين : \_\_\_\_\_ : الجواب : \_\_\_\_\_

### المسألة الثانية :

اشترت الام هدية بثمن 350 شاقل ومكواة بسعر 256 شاقلا كم شاقلا دفعت الام للبائع ؟

التمرين : \_\_\_\_\_ : الجواب : \_\_\_\_\_

### المسألة الثالثة :

في خزانة آمال 9 رفوف وعلى كل رف 3 قمصان لها كم عدد القمصان لدى آمال ؟

التمرين : \_\_\_\_\_ : الجواب \_\_\_\_\_