


مدرسة الصديق الابتدائية
امتحان حساب الفصل الثالث – الصف الثاني

الاسم :

الصف :

السنة :



العلامة

القسم الاول : أحط الجواب الصحيح بدائرة :
1- العدد- ثلاث مائة واثنان عشر - هو بالارقام :

320 13 312 302

2- العدد 206 بالكلمات :

مائتان وستون مائة وستة
مائتان وستة ست مائة واثنان

3- أكتب بالكلمات :

160 : _____ 271 : _____

4- قيمة رقم العشرات في هذا العدد (434) هو :

400 40 3 30

6- قيمة الرقم الذي تحته خط - 532 - هو :

15 50 500 5

7- لو استبدلنا رقم الآحاد في العدد 745 بالرقم 2 فان قيمة العدد :

ستبقى ثابتة ستكبر ستصغر

8- أ- ضع خطأً تحت رقم المئات في هذا العدد : 888

ب- ضع خطأً تحت رقم الآحاد في هذا العدد: 919

ت- أشر الى رقم العشرات في هذا العدد : 70

9- العدد السابق ل 300 هو :

290 299 399 301

10- العدد التالي 199

300 198 201 200

11- من هو العدد الاصغر من بين الاعداد الاتية :

272 729
870 780

12- العدد 165 _____ مائة وستة وخمسون
يساوي / أكبر من / أصغر من

13- رتب لأعداد التالية ترتيبا صحيحا

96 516 350 143
560
الاصغر → → → → → الاكبر

14 - ما هو العدد الناقص:

، _____ ، 250 ، 240)

230 260 251 360

15- ما هو العدد الناقص

89 ، 189 ، _____ 389 ، 489

180 298 190 289

16- حل التمارين الآتية مراعى الأقواس :

$$2 \times (3 : 15) = \underline{\hspace{2cm}}$$

$$6 + 6 + (3 \times 4) = \underline{\hspace{2cm}}$$

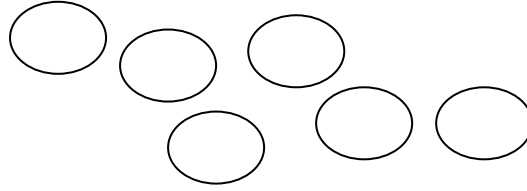
17- لَوْن نصف عدد الكرات : أختَر التمرين الملائم وحله

$$3 + 3 =$$

$$3 \times 6 =$$

$$6 - 3 =$$

$$6 : 2 =$$



القسم الثاني حل التمارين الآتية :

$$300 + 400 = \underline{\hspace{2cm}}$$

$$265 + 36 = \underline{\hspace{2cm}}$$

$$478 - 10 = \underline{\hspace{2cm}}$$

$$120 + 50 = \underline{\hspace{2cm}}$$

$$600 + 1 = \underline{\hspace{2cm}}$$

$$876 - 100 = \underline{\hspace{2cm}}$$

$$1 + 700 = \underline{\hspace{2cm}}$$

$$200 - 1 = \underline{\hspace{2cm}}$$

القسم الثالث هندسة
1- كم الساعة

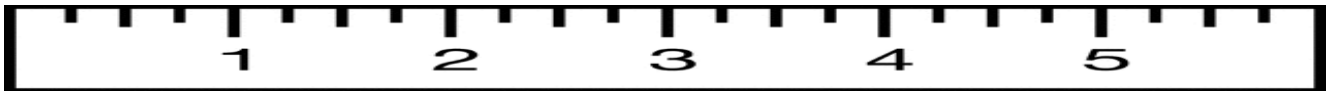
الساعة الآن هي : _____



الساعة الآن هي : _____



2- طول القلم




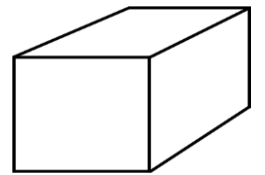
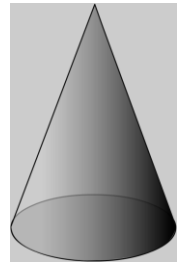
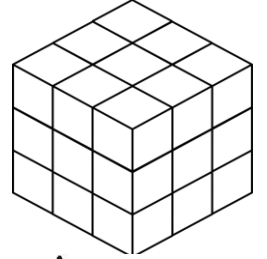
6سم

2سم

5سم

4سم

أكتب بجانب كل مجسم اسمه



مسائل كلامية :

المسألة الاولى : صنعت الام 120 كعكة صغيرة للحفلة لكنها أضافت
50 كعكة أخرى .

كم عدد المكعبات التي حضرتها الام ؟

التمرين : _____
الجواب : _____



المسألة الثانية :

رسمت جيهان 3 وردات على كل صفحة . علما أن عدد الصفحات هو
7 صفحات .

ما هو المجموع الكلي للوردات ؟

التمرين : _____
الجواب : _____



المسألة الثالثة :

حصل أحمد على 200 شاقل من جده، بسبب نجاحه ، لكنه اشترى بوظة لذيذة ثمنها
10 شواقل

كم شاقل أصبح مع أحمد ؟

التمرين : _____
الجواب : _____