

مدرسة الصديق الابتدائية

امتحان رياضيات

الصفوف الثانية

الاسم :

المعلمة :

التقييم :



u21266601 fotosearch.com

صيف 2013

باحترام معلمات الموضوع

وفيقه فحمادي + فنان عايدي + اخلاص بشر

بالنجاح يا أبطال

اقرأ الاسئلة جيدا وأجب عنها بتمهل : ضع إشارة X في المربع الصحيح

1) من هو العدد السابق ل 700 :

701 699 799 600

2) من هو العدد التالي ل 400 :

390 500 401 399

3) العدد الناقص الذي يكمل المتوالية هو :

232 ، 222 ، 212 ، ----- (أ)

102 202 213 211

549 ، 448 ، 347 ، ----- (ب) ، 145

346 757 257 246

4- نكتب العدد 701 بالكلمات :

مائة وسبعة مائة وسبعة عشر

سبع مائة وعشرة سبع مئة

5- العدد أربع مائة وثلاثة عشر هو :

313 413 403 310

6- هيا نكتب الأعداد الآتية بالكلمات :

154 : _____ 990 : _____

7- ضع إشارة ✖ داخل مربع العدد الأكبر :

882 827 728 872

8- ضع إشارة ✖ داخل مربع العدد الأصغر :

443 234 205 203

9- رقم العشرات في العدد -257- هو : _____

10- العدد 285 هو عدد ضع إشارة ✖ :

أحادي المنزلة ثنائي المنزلة ثلاثي المنزلة

11 أحط منزلة العشرات بدائرة :

5 - 63 - 50 - 201 - 7871

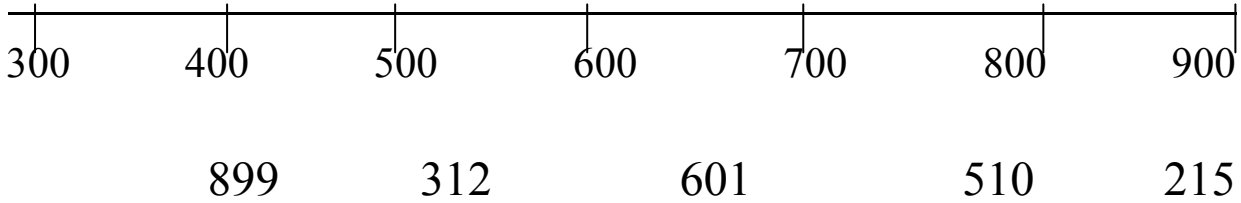
12- قيمة الرقم الذي تحته خط 665 هو :

50 6 600 60

13- ارسم العدد 162 داخل المربع :



14- ما هي الاعداد التي تقع داخل المستقيم المعطى :

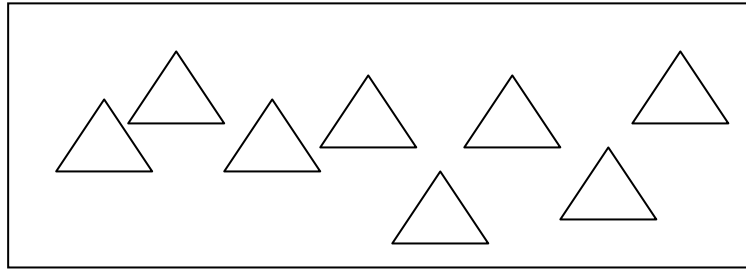


15- لديك العددين 458 ، 548 :

أيهما أكبر : _____

بكم أكبر : _____ اكتب التمرين الملائم :

16- لون رُبع عدد المثلثات الآتية : استعن بالتمرين الملائم : _____



17- حل المعادلات الآتية :

أ) $498 - = 228$

ب) $100 + = 700$

ت) $550 + = 650$

ث) $350 - = 150$

18- حل تمارين الجمع والطرح عموديا في الشبكة

$$138+100=$$

$$350 - 100=$$

$$999 - 8=$$

$$735 + 37 =$$

$$400 + 500=$$


$$356 - 10=$$

$$229 + 10 =$$

$$725 - 28=$$

$$899 - 25=$$

$$195 + 5=$$



مسائل كلامية :

المسألة الاولى :

تبرّع ابو أحمد بـ 123 قصة للصف الثاني وتبرّع شخص آخر بـ 100 قصة أخرى

كم أصبح مجموع القصص في الصف الثاني ؟

التمرين : _____ : الجواب : _____

المسألة الثانية :

أعطى الأب لابنه محمود 450 شاقلاً ، ليشتري دراجة هوائية دفع محمود 350 ثمن الدّراجة . كم شاقلاً بقي معه ؟

التمرين : _____ : الجواب : _____

المسألة الثالثة :

اشترت الام لكل ولد من اولادها الاربعة 6 أقلام كم مجموع الاقلام التي اشترتها الام ؟

التمرين : _____ : الجواب : _____

المسألة الرابعة :

كان مع الجدّة مبلغ 30 شاقلاً ، فوزعت على أحفادها الستة المبلغ بالتساوي . كم شاقلاً أخذ كل حفيد ؟

التمرين : _____ : الجواب : _____

بالنجاح يا أبطال